

الاسم : \_\_\_\_\_

مدرسة مار يوحنا الانجيلي

اختبار في الهندسة للصف السادس الابتدائي

الأجسام

• مدّة الاختبار : 45 دقيقة ( حصّة تعليمية واحدة).

• علامة الاختبار من : 20 .

بالتّـ \_\_\_\_\_ جاح

1) ضع دائرة حول الإجابة الصحيحة : ( 3 علامات)

أ - الأسطوانة ليست منشورا ؟ اشرح ووضّح إجابتك .

ب - غير صحيح

أ - صحيح

الشرح :

ب - المخروط هو جسم متعدّد السّطوح ؟ اشرح ووضّح إجابتك .

ب - غير صحيح

أ - صحيح

الشرح :


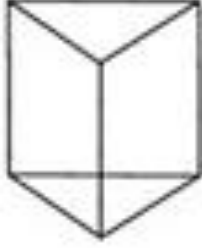

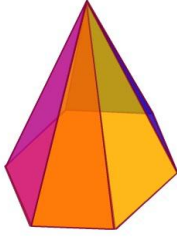


ج- المكعب هو منشور ؟ اشرح ووضّح إجابتك .

ب - غير صحيح

أ - صحيح

الشرح :

(2) سمّ كل جسم من الأجسام الآتية: (6 علامات)



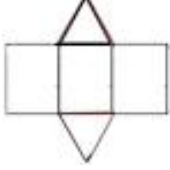
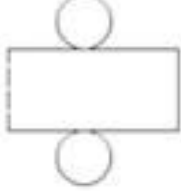
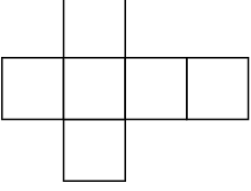
		
_____	_____	_____
		
_____	_____	_____

\*\*\*\*\*

(3) أكمل الجدول الآتي: (6 علامات)

اسم الجسم	عدد الرؤوس	عدد الأضلاع	عدد الأوجه	القاعدة
هرم خماسي				
منشور سباعي				
مكعب				

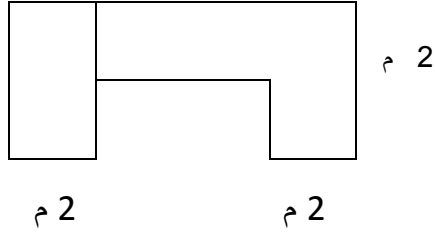
(4) أكتب اسم الجسم الملائم لكل انتشار: ( 5 علامات)

اسم الجسم الملائم للانتشار	الانتشار
	
	
	
	
	

بونووس ..... ( + 2 )

جد مساحة الشكل ، أكتب مراحل الحل .

8 متر



الحل :

---

---

---

---

---

---

---

إلى هنا انتهى الاختبار

راجع إجاباتك مرّة أخرى قبل تسليم ورقة الاختبار.

بالتّجّاح يا أبطال الرياضيات.....